

_____ : (1 1)

الوثيقة 1 : تعطي الوثيقة التالية، رسماً تفسيرياً يظهر اهتمامات كل من الوراثة المانديلية ووراثة الساكنة. حدد من خلال هذه الوثيقة اهتمامات كل من علمي الوراثة المانديلية ووراثة الساكنة، ثم حدد أهداف ووراثة الساكنة.

وراثة الساكنة

إناث

ساكنة

ذكور

aa AA aa AA aa
aa Aa Aa Aa
Aa Aa Aa Aa Aa
Aa Aa Aa Aa Aa
Aa Aa aa ...

X

aa AA aa AA aa
aa Aa Aa Aa
Aa Aa Aa Aa Aa
Aa Aa Aa Aa Aa
Aa Aa aa ...

↓

تزاوج عشوائي بين جميع أفراد الساكنة

↓

الأبناء

A/A = ? Aa = ? aa = ?

الوراثة المانديلية

أنثى

Aa

X

ذكر

Aa

الآباء

↓

تزاوج مراقب بين فردين معينين

↓

الأبناء

1/4 A/A 1/2 Aa 1/4 aa

-
-
-

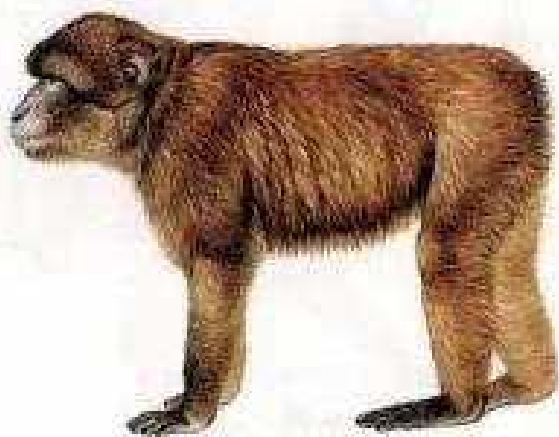
- (1)
- (2)
- (3)
- (4)
- (5)

1. 3 j2 ① ملاحظة بعض أنواع الساكنات المستوطنة بالمغرب:

يقتضي تحديد الساكنة اعتبار معايير فضائية، وزمانية، ووراثية. بين ذلك انطلاقا من الوثائق التالية.

الوثيقة 3

Macaca sylvanus المعروف بالقرود زعوط هو نوع من القرود التي تستوطن المغرب، ويشكل ساكنة يبلغ عددها حاليا زهاء 10000 بين المغرب والجزائر. تنتشر هذه الساكنة على الخصوص في غابات شجر الأرز بجبال الأطلس المتوسط، على ارتفاع يتراوح بين 1200 و2000 متر، يتميز بقدرته على تحمل التغيرات المناخية (صيف حار وجاف وشتاء بارد جدا). وهو قرود بدون ذيل، يصل وزنه إلى 20 كغ عند الذكور و15 كغ عند الإناث، وطوله زهاء 60 سم.



الوثيقة 2

يوجد شجر أركان أساسا في الأطلس الكبير وفي سهل سوس والأطلس الصغير، ويغطي مساحة تقدر ما بين 700.000 و 850.000 هكتار. وهو نوع لا مبالى بنوعية التربة (ينمو فوق تربة سيليسية ، شيسيتية ، كلسية) ويتحمل الحرارة (50°+) ويقاوم الجفاف ينتمي للطبقة الحيمناخية شبه القاحلة والقاحلة، لا يتجاوز علوه 10 أمتار، من كاسيات البذور يزهر في فصل الربيع يتكاثر عن طريق التوالد الجنسي بحيث تحرر المأبر بعد نضجها حبوب اللقاح لتتقل إلى ميسم الزهرة فتلتصق به لتتنب أنبوب اللقاح الذي ينمو في اتجاه البيضة. ولن تتم عملية الإنبات إلا إذا كان هناك تلاؤم بين حبوب اللقاح والميسم (أي ينتميان لنفس النوع) و هو أمر يتحكم فيه البرنامج الوراثي لكل من حبوب اللقاح والميسم . وتشكل كل الحليلات المتواجدة عند كل أفراد الساكنة ما يسمى بالمحتوى الجيني .

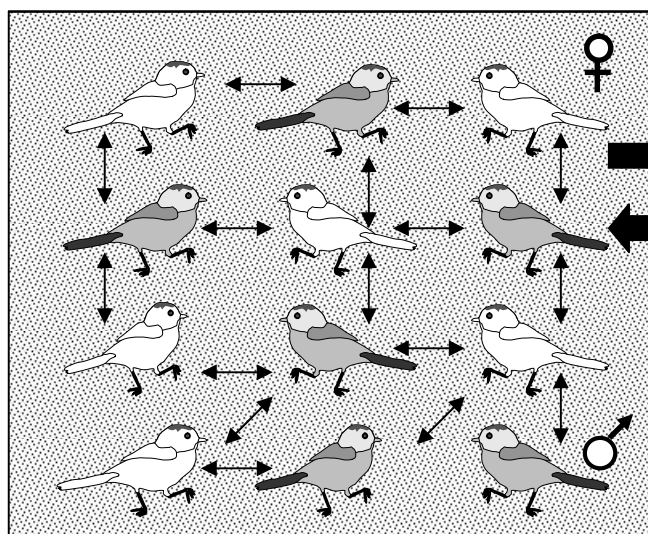


Macaca sylvanus

(1200 2000) .

2. 1 ② مفهوم الساكنة:

الوثيقة 1 : نموذج تفسيري لمفهوم الساكنة.



فقدان الأفراد

ولوج الأفراد

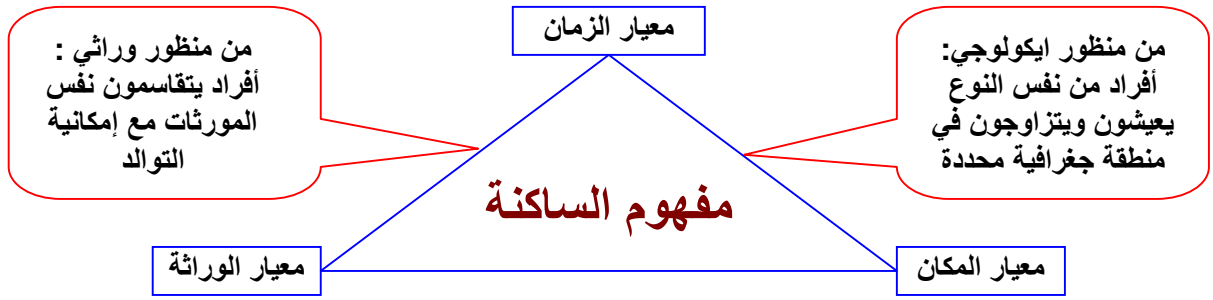
استخرج انطلاقا من هذه الوثيقة والوثائق السابقة تعريفا مبسطا لمفهوم الساكنة، مع تحديد خاصيات الساكنة الطبيعية.

= تزاوج بالصدفة، لكل فرد نفس الاحتمال بان يتزاوج ويعطي خلفا.

أفراد تنتمي لنفس النوع

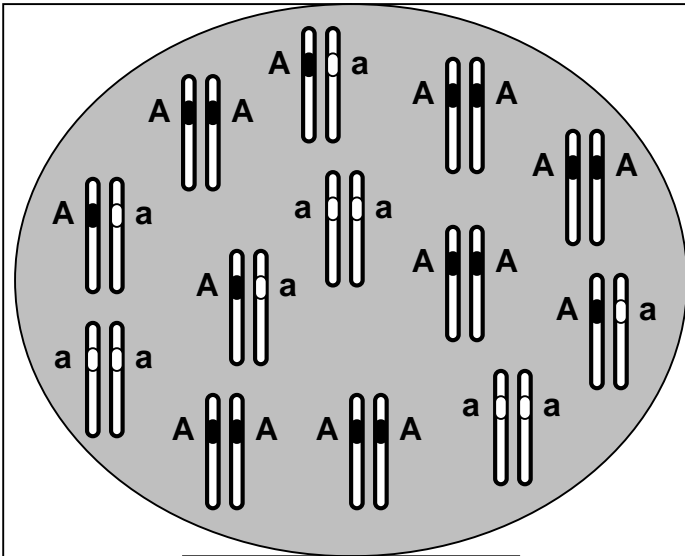
= مجال توزيع الساكنة

La population



③ المحتوى الجيني للساكنة:

$$P = \frac{AA + 2Aa + aa}{2}$$



الوثيقة 2:

يقدم الرسم أمامه المحتوى الجيني عند ساكنة P مكونة من 13 فردا. سنعتبر أن المورثة غير مرتبطة بالجنس، وتملك حليلين: A حليل سائد، و a حليل متنحي. باستخدام طريقة الاحتمالات، أحسب تردد كل من المظاهر الخارجية، الأنماط الوراثية، والحليلات. علما أن:

$$\text{تردد مظهر خارجي [A]} = \frac{\text{عدد الأفراد الحاملين للمظهر [A]}}{\text{مجموع أفراد الساكنة N}}$$

$$\text{تردد نمط وراثي AA} = \frac{\text{عدد الأفراد الحاملين للنمط AA}}{\text{مجموع أفراد الساكنة N}}$$

تردد الحليلات: $f(AA) = D$, $f(Aa) = H$, $f(aa) = R$

يمكن حساب تردد الحليل A بحساب احتمال سحب tirage هذا الحليل بالصدفة من الساكنة، الشيء الذي يتطلب في الأول سحب فرد معين من هذه الساكنة ثم سحب أحد حليليه:

← يمكن أن يكون الفرد المسحوب AA باحتمال D، في هذه الحالة، احتمال سحب الحليل A بالصدفة من هذا الفرد يساوي 1 (لأن هذا الفرد يحمل الحليل A فقط).

← أو أن يكون الفرد المسحوب Aa باحتمال H، في هذه الحالة، احتمال سحب الحليل A بالصدفة من هذا الفرد يساوي 1/2 (لأن هذا الفرد يحمل كذلك الحليل a).

← أو أن يكون الفرد المسحوب aa باحتمال R، في هذه الحالة، احتمال سحب الحليل A بالصدفة من هذا الفرد يساوي 0 (لأن هذا الفرد لا يحمل الحليل A).

$$f(A) = (D \times 1) + (H \times 1/2) + (R \times 0) \quad : \quad f(A) \text{ هو } (A) \text{ إذن تردد الحليل } (A)$$

$$\Rightarrow f(A) = D + H/2$$

$$f(a) = (D \times 0) + (H \times 1/2) + (R \times 1) \quad : f(a) \text{ هو } (a) \text{ تردد الحليل}$$

$$\Rightarrow f(a) = R + H/2$$

وهكذا يمكن حساب تردد حليل داخل ساكنة باستعمال الصيغة التالية:

$$\text{تردد حليل داخل عينة} = \frac{\text{عدد المورثة المتشابهة الاقتران بالنسبة للحليل}}{\text{مجموع أفراد الساكنة } N} + \left[\frac{\text{عدد المورثة المختلفة الاقتران}}{\text{مجموع أفراد الساكنة } N} \times \frac{1}{2} \right]$$

$$\text{تردد حليل داخل عينة} = \frac{2 \times \text{عدد المورثة المتشابهة الاقتران بالنسبة لحليل} + \text{عدد المورثة المختلفة الاقتران}}{2 \times \text{مجموع أفراد الساكنة } N \text{ (عدد الحليلات)}}$$

$$f[a] = 3/13 \quad ; \quad f[A] = 10/13$$

$$f(AA) = D = 6/13 \quad , \quad f(Aa) = H = 4/13 \quad , \quad f(aa) = R = 3/13$$

$$f(A) = \frac{(2 \times 6) + 4}{2 \times 13} = 0.62$$

$$f(a) = \frac{(2 \times 3) + 4}{2 \times 13} = 0.38$$

- II Hardy - Weinberg :

① الساكنة النظرية المثالية:

(...)

$$.H - W$$

3 1

الوثيقة 1 : خاصيات الساكنة النظرية المثالية

- ساكنة لمتعضيات ثنائية الصيغة الصبغية ذات توالد جنسي وأجيالها غير مترابطة (ليس هناك أي تزاوج بين أفراد الأجيال المختلفة).
- ساكنة ذات عدد لا منته حيث تتسم التزاوجات بشكل عشوائي.
- ساكنة مغلقة وراثيا (ليس هناك تدفقات ناتجة عن الهجرة).
- لجميع أفراد الساكنة، مهما كان نمطهم الوراثي، القدرة نفسها على التوالد والقدرة على إعطاء خلف قادر على العيش = غياب الانتقاء
- غياب الطفرات والتغيرات الوراثية أثناء افتراق الصبغيات اثر الانقسام الاختزالي (يعطي الفرد من النمط Aa دائما % 50 من الأمشاج A و % 50 من الأمشاج a.
- التزاوج العشوائي بين الأفراد : الأفراد يتزاوجون بالصدفة Panmixie (لا يتم اختيار الشريك الجنسي بناء على خاصيات نمطه الوراثي أو مظهره الخارجي، والتقاء الأمشاج يحصل كذلك بالصدفة Pangamie).

② قانون Hardy و Weinberg :

H.W

= Weinberg

= Hardy) .

(.

- الوثيقة 2 : إنشاء قانون Hardy - Weinberg نعتبر ساكنة نظرية مثالية، ولنتتبع تطور محتواها الجيني على مدى جيلين متتابعين G_0 و G_1 ، وذلك من خلال تتبع تطور كل من الأنماط الوراثية وتردد الحليلات بالنسبة لمورثة غير مرتبطة بالجنس ذات حليلين A و a .
- 1) حدد تردد كل من الأنماط الوراثية والحليلات في الجيل الأصلي G_0 .
 - 2) حدد تردد الأنماط الوراثية في الجيل G_1 .
 - 3) حدد تردد الحليلات في الجيل G_1 من خلال تردد أنماطه الوراثية.
 - 4) ماذا تستنتج ؟

ساكنة نظرية مثالية (الجيل G_0)

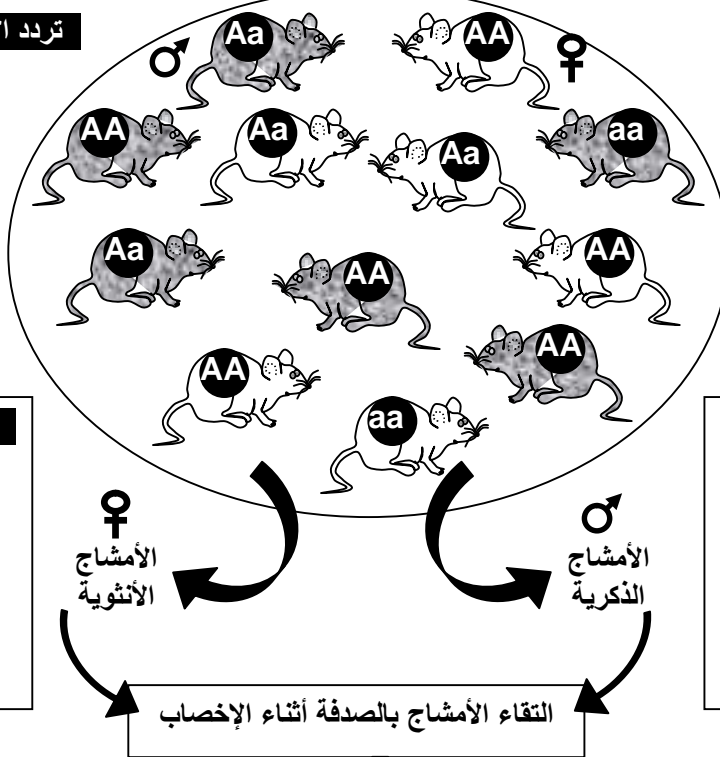
تردد الأنماط الوراثية في الجيل G_0 :

$$f(AA) = \dots\dots\dots$$

$$f(Aa) = \dots\dots\dots$$

$$f(aa) = \dots\dots\dots$$

$$f(AA) + f(Aa) + f(aa) = \dots\dots\dots$$



تردد الحليلات في الجيل G_0 :

$$f(A) = p = \dots\dots\dots$$

$$f(a) = q = \dots\dots\dots$$

$$p + q = \dots\dots\dots$$

تردد حليلات الأمشاج الذكورية:

$$f(A) = \dots\dots\dots$$

$$f(a) = \dots\dots\dots$$

$$f(A) + f(a) = \dots\dots\dots$$

تردد حليلات الأمشاج الأنثوية:

$$f(A) = \dots\dots\dots$$

$$f(a) = \dots\dots\dots$$

$$f(A) + f(a) = \dots\dots\dots$$

تردد الأنماط الوراثية في الجيل G_1 :

$$f(AA) = \dots\dots\dots$$

$$f(Aa) = \dots\dots\dots$$

$$f(aa) = \dots\dots\dots$$

$$f(AA) + f(Aa) + f(aa) = \dots\dots\dots$$

شبكة التزاوج ← الجيل G_1

	♂	A	a
♀		p	q
	A	p	
	a		q

تردد الحليلات في الجيل G_1 :

$$f(A) = \dots\dots\dots$$

$$f(a) = \dots\dots\dots$$

$$f(A) + f(a) = \dots\dots\dots$$

$$:G_0 \quad (1) \quad f(AA) = D \quad , \quad f(Aa) = H \quad , \quad f(aa) = R \quad : \quad \star$$

$$D + H + R = 1$$

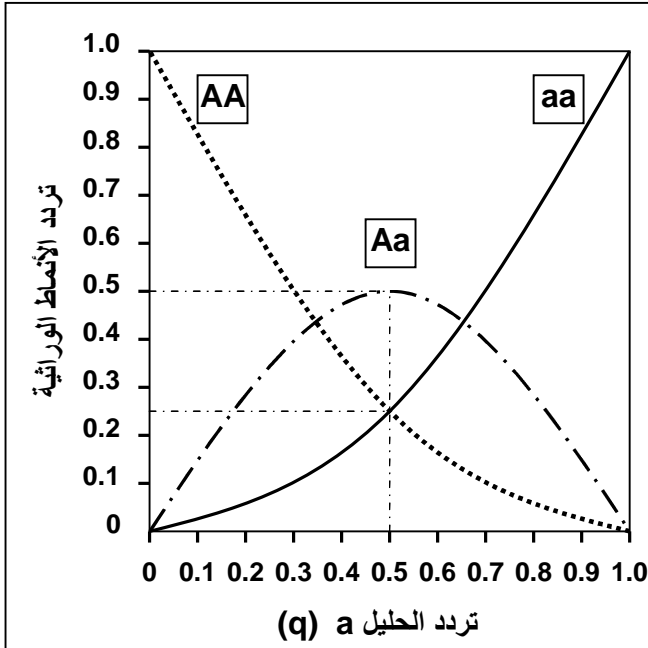
$$f(A) = p = D + H/2 \quad , \quad f(a) = q = R + H/2 \quad : \quad \star$$

$$p + q = D + H + R = 1$$

a (q).

4 1

$$.p = q = 0.5$$



الوثيقة 1: تردد الأنماط الوراثية بدلالة قيمة q حسب قانون H-W

بتطبيق المعادلات :

$$f(AA) = p^2 = (1 - q)^2$$

$$f(Aa) = 2pq = 2q(1 - q)$$

$$f(aa) = q^2$$

يمكن تمثيل منحنيات تردد مختلف الأنماط الوراثية بدلالة قيمة تردد الحليل a (q)، فنحصل على الشكل جانبه.

حدد قيم تردد مختلف الأنماط الوراثية في حالة $p = q = 0.5$. ثم قارن هذه المعطيات مع النسب المانديلية في حالة تزاوج الهجناء مختلفي الاقتران.

$$f(AA) = \dots\dots\dots, f(Aa) = \dots\dots\dots, f(aa) = \dots\dots\dots$$

مقارنة :

.....
.....
.....

$$f(aa) = 1/4 \quad , \quad f(Aa) = 1/2 \quad , \quad f(AA) = 1/4 \quad :$$

.Hardy-Weinberg

:

Hardy - Weinberg

- III

: (Khi deux) χ^2

①

χ^2

:

χ^2

$$\chi^2 = \sum \frac{(\text{عدد الأفراد النظري} - \text{عدد الأفراد الملاحظ})^2}{\text{عدد الأفراد النظري}}$$

• نحدد قيمة تدعى درجة الحرية (ddl) Degré de liberté : هي فارق عدد الأنماط الوراثية وعدد الحليلات المدروسة:

$$ddl = \text{عدد الحليلات} - \text{عدد الأنماط الوراثية}$$

.5 % 0.05

 α

.ddl

الوثيقة 2: اختبار التوازن χ^2 :

α ddl	0,90	0,50	0,30	0,20	0,10	0,05	0,02	0,01	0,001
1	0,0158	0,455	1,074	1,642	2,706	3,841	5,412	6,635	10,827
2	0,211	1,386	2,408	3,219	4,605	5,991	7,824	9,210	13,815
3	0,584	2,366	3,665	4,642	6,251	7,815	9,837	11,345	16,266
4	1,064	3,357	4,878	5,989	7,779	9,488	11,668	13,277	18,467
5	1,610	4,351	6,064	7,289	9,236	11,070	13,388	15,086	20,515
6	2,204	5,348	7,231	8,558	10,645	12,592	15,033	16,812	22,457
7	2,833	6,346	8,383	9,803	12,017	14,067	16,622	18,475	24,322
8	3,490	7,344	9,524	11,030	13,362	15,507	18,168	20,090	26,125
9	4,168	8,343	10,656	12,242	14,684	16,919	19,679	21,666	27,877
10	4,865	9,342	11,781	13,442	15,987	18,307	21,161	23,209	29,588
.
.
30	20,599	29,336	33,530	36,250	40,256	43,773	47,962	50,892	59,703

χ^2 في الجدول، نقول أن الساكنة تخضع لقانون Hardy
 χ^2 في الجدول، نقول أن

 χ^2 χ^2

- weinberg

الساكنة لا تخضع لقانون Hardy - weinberg

(4 3) :

Hardy - Weinberg

②

الوثيقة 3 : تطبيق قانون Hardy-Weinberg على ساكنة نظرية مثالية في حالة السيادة التامة.

مظهر خارجي ساند [R]	مظهر خارجي متنحي [b]	المظهر الخارجي
RR + Rb	bb	النمط الوراثي
480	20	عدد الأفراد

داخل ساكنة نظرية تتألف من 500 نبتة زهرية، تم إحصاء عدد الأفراد بأزهار حمراء، وعدد الأفراد بأزهار بيضاء، فحصلنا على النتائج الممثلة على الجدول جانبه. للإشارة فالمورثة المسؤولة عن لون الأزهار محمولة على صبغي لا جنسي مع سيادة الحليل المسؤول عن اللون الأحمر (R) على الحليل المسؤول عن اللون الأبيض (b).

باعتبار هذه الساكنة في حالة توازن، وبتطبيق معادلة Hardy-Weinberg

$$p^2(RR) + 2pq(Rb) + q^2(bb) = 1$$

مع $p =$ تردد الحليل R ،
 $q =$ تردد الحليل b و $p + q = 1$

أحسب ترددات الأنماط الوراثية وترددات الحليلات عند الساكنة الأم والساكنة البنت، ثم استنتج العدد النظري للأنماط الوراثية RR و Rb في هذه الساكنة.

:

:bb

(1

★

$$f(bb) = f[b] = 20/500 = 0.04$$

$$p^2(RR) + 2pq(Rb) + q^2(bb) = 1 \quad (p + q)^2$$

$$f(b) = q \quad f(R) = p \quad f(RR) = p^2, \quad f(Rb) = 2pq, \quad f(bb) = q^2$$

$$(f(bb) = f[b] = q^2 = 0.04) \quad q$$

$$f(b) = q = \sqrt{0.04} = 0.2 \quad :$$

$$q = 0.2$$

$$p = 1 - q = 1 - 0.2 = 0.8 \quad p + q = 1 \quad : p$$

$$p = 0.8$$

$$f(R) = 0.8, \quad f(b) = 0.2 \quad : \quad b \quad R$$

★
:RR
: q p

$$f(RR) = p^2 = (0.8)^2 = 0.64 \quad :RR$$

$$f(Rb) = 2pq = (2 \times 0.8 \times 0.2) = 0.32 \quad :Rb$$

:Rb RR ★

$$f(RR) \times (N) = RR \quad \leftarrow f(RR) = \text{UUUUUUUUUUUUUU}$$

$$320 = 0.64 \times 500 = f(RR) \times N \quad RR$$

$$160 = 0.32 \times 500 = f(Rb) \times N \quad Rb$$

$$20 = 0.04 \times 500 = f(bb) \times N \quad bb$$

(2)

b R

$$f(RR) = p^2 = 0.64$$

$$f(Rb) = 2pq = 2 \times 0.16 = 0.32$$

$$f(bb) = q^2 = 0.04$$

♀ \ ♂	R p = 0.8	b q = 0.2
R p = 0.8	RR p ² = 0.64	Rb Pq = 0.16
b q = 0.2	Rb Pq = 0.16	bb q ² = 0.04

.(H-W)

(5 1) : - a

الوثيقة 1: يرمز للفصيلة الدموية ريزوس (Rh) Rhésus بواسطة الحليلين d و D. الحليل D ساند يعطي الفصيلة [Rh⁺]، والحليل d متنحي بحيث النمط الوراثي dd يعطي الفصيلة [Rh⁻]. في سنة 1976 أظهرت دراسة خصت 400 فرد من منطقة الباسك باسبانيا أن 230 منهم من الفصيلة [Rh⁺]. بتطبيق قانون Hardy -Weinberg، أتمم الجدول التالي.

f(d) = q = $\sqrt{(400-230)/400}$ اذن	f(dd) = q ² و f(d) = q	الحليل d	تردد الحليلات
f(D) = p = 1 - q = 0.35		الحليل D	
f(DD) = p ² = (0.35) ² = 0.122		DD	تردد الأنماط الوراثية
f(Dd) = 2pq = 2 x 0.65 x 0.35 = 0.455		Dd	
f(dd) = q ² = (0.65) ² = 0.423		dd	
(f(Dd)/(f(Dd) + f(DD)))x100 = (0.455/(0.455+0.122))x100 = 78.86		نسبة [Rh ⁺] الذين هم مختلفوا الاقتران :	

(5 2) Mucoviscidose : - b

الوثيقة 2 : انتقال مرض Mucoviscidose

- عند ساكنة متوازنة، يصاب طفل من بين 3000 بمرض وراثي يدعى La mucoviscidose بسببه حليل متنحي m غير مرتبط بالجنس. (1) أعط النمط الوراثي أو الأنماط الوراثية الممكنة للأفراد العاديين. علل إجابتك. (أستعمل الرمز m⁺ بالنسبة للحليل الساند)
- (2) أحسب تردد الأفراد المصابين في هذه الساكنة.
- (3) أحسب تردد الأفراد مختلفي الاقتران في هذه الساكنة.

$$m^+m \quad m^+m^+ \quad (1)$$

$$f(mm) = \frac{1}{3000} = 3.3 \cdot 10^{-4} : f(mm) \quad (2)$$

$$f(mm) = f(m) = q^2 \quad p + q = 1$$

$$(f(mm)) \quad q : q$$

$$q = \sqrt{3.3 \cdot 10^{-4}} = 0.018$$

$$P = 1 - q = 1 - 0.018 = 0.982$$

$$: 2pq \quad f(m^+m) \quad (3)$$

$$f(m^+m) = 2 \times (0.982 \times 0.018) = 0.035$$

الوثيقة 3: النظام الدموي MN عند الإنسان

- عند الإنسان تخضع الفصيلة الدموية في النظام MN لتعبير حليلين متساويي السيادة M و N. أعطت دراسة أجريت على 730 شخص بريطاني النتائج الإحصائية التالية: [N] 492 + [M] 22 + [MN] 216.
- 1) أحسب تردد مختلف الأنماط الوراثية في هذه الساكنة.
 - 2) أحسب تردد الحليلين M و N.
 - 3) إذا اعتبرنا أن هذه الساكنة في حالة توازن Hardy – Weinberg، أحسب التردد المنتظر لكل من الأنماط الوراثية.
 - 4) أحسب عدد كل من الأنماط الوراثية المنتظر حسب قانون Hardy – Weinberg.
 - 5) هل تعتبر هذه الساكنة في حالة توازن (تأكد من ذلك باستعمال اختبار التباينية χ^2).

- عند سلالة من الماعز، نجد ثلاثة مظاهر خارجية فيما يخص لون الفرو. فهناك اللون الأسود [NN]، واللون الأبيض [BB]، واللون الرمادي [NB]، الذي يدل على تساوي السيادة بين الحليل المسؤول عن اللون الأبيض (B)، والحليل المسؤول عن الأسود (N). داخل ساكنة تتكون من 10000 فرد، تم احصاء 3000 فرد [NN]، و 1000 فرد [NB]، و 6000 فرد [BB]. بتطبيقك نفس المراحل المعتمدة في الجزء 1 من هذا التمرين، بين هل هذه الساكنة هي في حالة توازن ؟ .

(1)

$$D = f(NN) = \frac{\text{NN}}{\text{UUUUUUUUUU}} = \frac{492}{730} = 0.67 \Rightarrow f(MM) = 0.67$$

$$R = f(MM) = \frac{\text{MM}}{\text{UUUUUUUUUU}} = \frac{22}{730} = 0.03 \Rightarrow f(NN) = 0.03$$

$$H = f(MN) = \frac{\text{MN}}{\text{UUUUUUUUUU}} = \frac{216}{730} = 0.30 \Rightarrow f(MN) = 0.30$$

: N M (2)

$$f(N) = D + \frac{H}{2} = 0.03 + \frac{0.30}{2} = 0.18 \Rightarrow f(N) = p = 0.18$$

$$f(M) = R + \frac{H}{2} = 0.67 + \frac{0.30}{2} = 0.82 \Rightarrow f(M) = q = 0.82$$

$$p + q = 0.18 + 0.82 = 1$$

() (3)

. ($p^2 + 2pq + q^2$) Hardy - Weinberg

$f(NN) = 0.032 \Leftrightarrow$	0.032	$(0.18)^2$	p^2	NN	★
$f(MM) = 0.673 \Leftrightarrow$	0.673	$(0.82)^2$	q^2	MM	★
$f(MN) = 0.295 \Leftrightarrow$	0.295	$(2 \times 0.18 \times 0.82)$	$2pq$	MN	★

(4)

$$\begin{aligned}
 24 &= 0.032 \times 730 = p^2 \times N & \text{NN} & \star \\
 215 &= 0.295 \times 730 = 2pq \times N & \text{MN} & \star \\
 491 &= 0.673 \times 730 = q^2 \times N & \text{MM} & \star
 \end{aligned}$$

(5)

χ^2 \star

χ^2 MM و MN و NN 3

$$\chi^2 = (E_{NNO} - E_{Nnt})^2 / E_{Nnt} + (E_{MMO} - E_{MMt})^2 / E_{MMt} + (E_{MNO} - E_{Mnt})^2 / E_{Mnt}$$

$E_t = E_o$

$$\begin{aligned}
 \chi^2 &= \frac{(22 - 24)^2}{24} + \frac{(492 - 491)^2}{491} + \frac{(216 - 215)^2}{215} \\
 &= 0.023 + 0.166 + 0.0046 = 0.173
 \end{aligned}$$

ddl \star

$$\begin{aligned}
 ddl &= - \\
 &= 3 - 2 \\
 &= 1
 \end{aligned}$$

5 % 0.05 α \star

3.84 4 2 χ^2 \star

$$\chi^2 < \chi^2 \left\{ \begin{array}{l} \chi^2 = 3.84 \\ \chi^2 = 0.05 \end{array} \right.$$

χ^2

.Hardy-Weinberg

Hardy-Weinberg

Hardy-Weinberg

(2 5 3) :

- $f(B) = p ((6000 + 1000)/2)/10000 = 0.65$
- $f(N) = q ((3000 + 1000)/2)/10000 = 0.35$

:Hardy-Weinberg

- $F(BB) = p^2 = (0.65)^2 = 0.4225$
- $F(NB) = 2pq = 2 \times 0.35 \times 0.65 = 0.455$
- $F(NN) = q^2 = (0.35)^2 = 0.1225$

[NN] = 0.4225 x 10000 = 4225 : [NN] ✓
 [NB] = 0.4550 x 10000 = 4550 : [NB] ✓
 [BB] = 0.1225 x 10000 = 1225 : [BB] ✓

$$\chi^2 = \sum((Ho - Et)^2 / Et) \quad \chi^2$$

= Eo ✓

= Et ✓

[BB]	[NB]	[NN]	
6000	1000	3000	
1225	4550	4225	()

$$\chi^2 = ((3000 - 4225)^2/4225) + ((1000 - 4550)^2/4550) + ((6000 - 1225)^2/1225)$$

$$\chi^2 = 6087.42$$

.(3-2=1)

ddl

χ^2

(3.84)

χ^2

$\alpha = 0.05$

χ^2

.(6087.42)

.Hardy-Weinberg

تمرين تطبيقي:

داخل ساكنة من نباتات شب الليل، تم انجاز دراسة احصائية تهم لون التويجات في الأزهار. ويبين الجدول التالي نتائج الدراسة:

المظهر الخارجي	تويجات حمراء	تويجات وردية	تويجات بيضاء	العدد الاجمالي للساكنة
عدد النباتات	3	44	55	102

نشير الى أن صفة لون التويجات تخضع لمورثة محمولة على صبغي لاجنسي، وذات حليلين متساويي السيادة: الحليل المسؤول عن اللون الأبيض (B)، والحليل المسؤول عن اللون الأحمر (R). ويجسد اللون الوردي المظهر الخارجي الوسيط.
السؤال: استعمل اختبار χ^2 لتحديد هل الساكنة متوازنة أم لا.

حل التمرين:

• حساب تردد المظاهر الخارجية: $f(B) = p = (55+(44/2)) / 102 = 0.755$

$f(R) = q = (3+(44/2)) / 102 = 0.245$

• حساب تردد المظاهر الخارجية / الأنماط الوراثية المنتظرة، وذلك بتطبيق صيغة الرياضية لـ H-W

$f(BB) = p^2 = (0.755)^2 = 0.57 = 58/102$

$f(RB) = 2pq = (2 \times 0.245 \times 0.755) = 0.37 = 38/102$

$f(RR) = q^2 = (0.245)^2 = 0.06 = 6/102$

• وضع جدول المقارنة بين أعداد المظاهر الخارجية الملاحظة والمنتظرة (النظرية):

المظهر الخارجي	[BB]	[RB]	[RR]
عدد الأفراد الملاحظ	55	44	3
عدد الأفراد النظري	58	38	6

• حساب χ^2 : $\chi^2 = ((55-58)^2/58) + ((44-38)^2/38) + ((3-6)^2/6)$

$\chi^2 = 2.6$

• درجة الحرية $ddl = 3 - 2 = 1$ ، وبالنسبة ل $\alpha = 0.05$ فقيمة χ^2 النظري هي 3.84.

• نلاحظ أن قيمة χ^2 النظري تفوق قيمة χ^2 التي تم حسابها. إذن فأعداد الأفراد الملاحظة تتطابق مع أعداد الأفراد المنتظرة. ويدل هذا التطابق على أن الساكنة متوازنة.

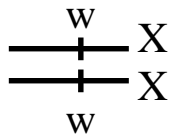
②

(5 4) .

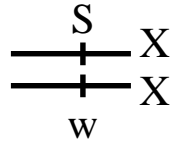
الوثيقة 4 : انتقال مورثة مرتبطة بالصبغي الجنسي X

- ترتبط صفة لون العيون عند ذبابة الخل بمورثة محمولة على الصبغي الجنسي X تتضمن حليلين: الحليل w متتح مسؤول عن العيون البيضاء. والحليل S سائد مسؤول عن العيون الحمراء.
- نضع داخل قفص الساكنة (قفص يمكن من تتبع تطور تردد الأنماط الوراثية وتردد الحليلات) عددا متساويا من ذكور وإناث ذبابات الخل. نعتبر أن هذه الساكنة تتوالد وفق النظام البنمكتي Panmixie (تزاوج بالصدفة)، وأنها في حالة توازن لا تعرف الطفرات ولا الانتقاء الطبيعي، وأنها كبيرة جدا لتطبيق قوانين الاحتمالات، وأن ترددات الحليلين S و w هي على التوالي p و q في الجيل الأول G_0 .
- 1) أعط الأنماط الوراثية الممكنة عند أفراد هذه الساكنة.
 - 2) أحسب تردد الأنماط الوراثية في الجيل الثاني G_1 . ثم قارن نتائج تطبيق قانون Hardy – Weinberg عند كل من الذكور والإناث.
 - 3) ماذا تستنتج من تطبيق قانون H – W في حالة مورثة مرتبطة بالجنس.
 - 4) يساعد تطبيق قانون Hardy – Weinberg على توقع انتشار بعض الأمراض عند الإنسان. وضح ذلك.

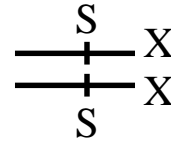
(1)



,

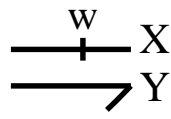


,

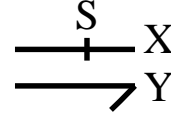


:

★

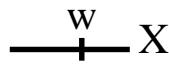


,

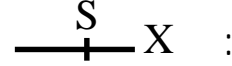


:

★

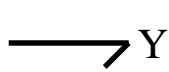


,

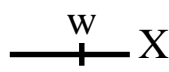


:

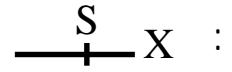
★



,



,



:

★

: G_1

(2)

()

★

$$f(w) = q, \quad f(S) = p, \quad p + q = 1$$

:

★

♀ \ ♂	$\begin{array}{c} S \\ \text{---} \\ \\ \text{---} \\ \\ S \end{array} X$ p	$\begin{array}{c} w \\ \text{---} \\ \\ \text{---} \\ \\ w \end{array} X$ q	$\longrightarrow Y$
$\begin{array}{c} S \\ \text{---} \\ \\ \text{---} \\ \\ S \end{array} X$ p	$\begin{array}{c} S \\ \text{---} \\ \\ \text{---} \\ \\ S \end{array} X$ $\begin{array}{c} S \\ \text{---} \\ \\ \text{---} \\ \\ S \end{array} X$ p^2	$\begin{array}{c} S \\ \text{---} \\ \\ \text{---} \\ \\ w \end{array} X$ pq	$\begin{array}{c} S \\ \text{---} \\ \\ \text{---} \\ \\ \longrightarrow Y \end{array} X$ p
$\begin{array}{c} w \\ \text{---} \\ \\ \text{---} \\ \\ w \end{array} X$ q	$\begin{array}{c} S \\ \text{---} \\ \\ \text{---} \\ \\ w \end{array} X$ pq	$\begin{array}{c} w \\ \text{---} \\ \\ \text{---} \\ \\ w \end{array} X$ q^2	$\begin{array}{c} w \\ \text{---} \\ \\ \text{---} \\ \\ \longrightarrow Y \end{array} X$ q

: G_1

★

$$f(X_w X_w) = q^2, \quad f(X_s X_w) = 2pq, \quad f(X_s X_s) = p^2 : \\ f(X_w Y) = q, \quad f(X_s Y) = p :$$

Hardy – Weinberg

(3)

H-W

(4)

(a A) . $f(X_aX_a) = q^2$, $f(X_AX_a) = 2pq$, $f(X_AX_A) = p^2$

(5)

() .

$q > q^2$	p^2+2pq	q^2	p	q	
$p^2 + 2pq > p$	q^2	p^2+2pq	q	p	

(6 1) . -

الوثيقة 1 : تمرين تطبيقي

الدلتونية عيب في إبصار الألوان، ويتعلق الأمر بشذوذ مرتبط بمورثة محمولة على الصبغي الجنسي X. ينتج هذا العيب عن حليل d متنحي. بينت دراسة تردد الدلتونية عند ساكنة مكونة من أطفال، أن تردد الحليل المسؤول عن المرض هو $q = 0.1$.
(1) أحسب نسبة ظهور المرض عند كل من الإناث والذكور في هذه الساكنة. ماذا تستنتج؟

داء Alport (الكلية) مرض وراثي سائد مرتبط بالصبغي الجنسي X. تردد الحليل المسؤول عن المرض عند ساكنة هو $p = 0.087$.
(2) أحسب نسبة ظهور المرض عند كل من الإناث والذكور في هذه الساكنة. ماذا تستنتج؟

(1)

$$f(X_d, X_d) = q^2 = (0.1)^2 = 0.01 \quad \star$$

$$f(X_d, Y) = q = 0.1 \quad \star$$

10 %

1 %

(2)

X

: (X_AX_n) : (X_AX_A)

$$f(X_AX_n) = 2pq$$

$$f(X_AX_A) = p^2$$

$$p^2 + 2pq$$

$$q = 1 - p = 1 - 0.087 = 0.913 \Leftrightarrow p + q = 1$$

$$(0.087)^2 + 2(0.087 \times 0.913) = 0.166 : \\ 16.6 \%$$

$.X_A$

★

$$f(X_A Y) = p = 1 / 104 = 0.087 \\ 8.70 \%$$

8.7 %

16.6 %

(6 2) .

الوثيقة 2 : انتقال صفة لون الفرو عند القطط			
<p>تتحكم في لون الفرو عند القطط مورثة مرتبطة بالصبغي الجنسي X. لهذه المورثة حليلين:</p> <ul style="list-style-type: none"> • تحليل Cn يمكن من تركيب الميلانين، مما يعطي لونا أسودا للفرو. • تحليل Cz يكبح تركيب الميلانين، مما يعطي لونا أصفرا للفرو. <p>عند عينة من القطط حصلنا على النتائج المبينة على الجدول أمامه:</p>			
50	0	300	
10	50	300	

- 1) أعط النمط الوراثي المناسب لكل مظهر خارجي.
- 2) فسّر غياب المظهر الخارجي المبقع بالأصفر والأسود عند الذكور.
- 3) أحسب تردد التحليل Cn وتردد التحليل Cz عند هذه العينة.
- 4) هل تردد التحليل Cn متطابق عند الجنسين؟ علل إجابتك.
- 5) أحسب تردد القطات بفرو أسود في الجيل الموالي في حالة ما إذا تمت التزاوجات بشكل عشوائي على مستوى العينة المدروسة.

(1)

فرو أصفر	فرو أصفر	فرو مبقع	فرو أسود	فرو أسود	المظهر الخارجي
♀	♂	♀	♀	♂	
$\frac{C_j}{+} X$	$\frac{C_j}{+} X$	$\frac{C_n}{+} X$	$\frac{C_n}{+} X$	$\frac{C_n}{+} X$	النمط الوراثي
$\frac{C_j}{+} X$	$\longrightarrow Y$	$\frac{C_j}{+} X$	$\frac{C_n}{+} X$	$\longrightarrow Y$	

Cj Cn

(2)

x

:

1

(3)

$$q = ((300 \times 2) + 50 + 300) / ((360 \times 2) + 350) = 0.887 : q \quad (C_n)$$

$$p = 1 - q = 1 - 0.887 = 0.113 : p \quad (C_j)$$

[Cn,Cj]

[Cn]

Cn

(4)

.Cn

[Cn]

$$((300 \times 2) + 50) / ((360 \times 2) + 350) = 0.90 :$$

Cn

$$300 / 350 = 0.86 :$$

Cn

Cn

0.86

0.9

Cn

$0.90 \times 0.86 \times 100 = 77.4 \%$

- V

①

(3 6)

T2

T3

★

الوثيقة 3 : طفرة وراثية عند ذبابة الخل

ذبابة خل بأربعة أجنحة

★

.Leucisme

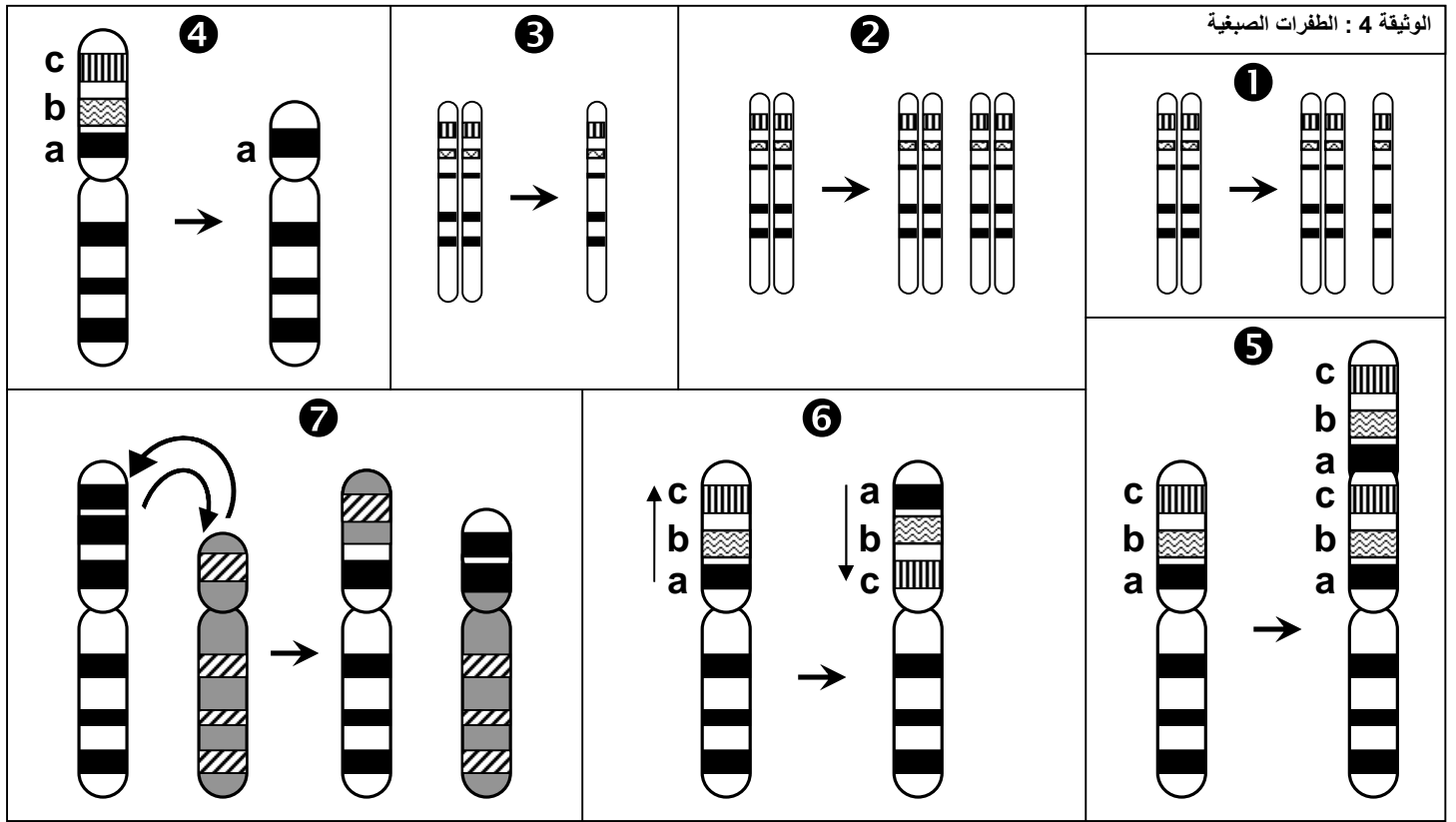
★

ADN

.(Mutation génétique)

- a

.6 4



☆ : _____

.Aneuploïdie ①

.Polyploïdie ②

.Monoploïdie ③

☆ : _____

() .

- ④
- ⑤
- ⑥
- ⑦

(7 1) (Ponctuelle) :

- b

الوثيقة 1 : الطفرات الموضعية

ينتج الخضاب الدموي العادي (β - globuline) عند الإنسان بواسطة الحليل HbA. غير أنه توجد مجموعة من الحليلات الطافرة المسببة لأمراض مرتبطة بفقر الدم عند الإنسان.
تمثل المتتاليات النوكليوتيديّة أسفله حليلات مختلفة (السلسلة غير المنسوخة) لمورثة β - globuline ، ومتتالية الأحماض الأمينية التي ترمز إليها.
1) قارن بين أنواع الطفرات التي تصيب مورثة β - globuline وفسر تأثيرها في بنية البروتين.
2) تعرف مختلف أصناف الطفرات الموضعية من خلال ملأ الجدول أسفله بما يناسب.
3) أبرز أهمية الطفرات الموضعية في تعدد الحليلات وتعدد المظاهر الخارجية.

CAC	CTG	ACT	CCT	GAG	GAG	AAG	TCT	GCC	GTT	ACT	GCC	CTG	TGG	GGC	AAG	GTG	HbA المورثة العادية
His	Leu	Thr	Pro	Glu	Glu	Lys	Ser	Ala	Val	Thr	Ala	Leu	Thp	Gly	Lys	Val	HbA البروتين العادي

CAT	CTG	ACT	CCT	GAG	GAG	AAG	TCT	GCC	GTT	ACT	GCC	CTG	TGG	GGC	AAG	GTG	Hba ₁ الحليل الطافر
His	Leu	Thr	Pro	Glu	Glu	Lys	Ser	Ala	Val	Thr	Ala	Leu	Thp	Gly	Lys	Val	HbA البروتين

CAC	CTG	ACT	CCT	GAG	GAG	AAG	TCT	GCC	GTT	ACT	GCC	CTG	TGG	GGC	AAG	GTG	HbS الحليل الطافر
His	Leu	Thr	Pro	Val	Glu	Lys	Ser	Ala	Val	Thr	Ala	Leu	Thp	Gly	Lys	Val	HbS البروتين

CAC	CTG	ACT	CCT	AAG	GAG	AAG	TCT	GCC	GTT	ACT	GCC	CTG	TGG	GGC	AAG	GTG	HbC الحليل الطافر
His	Leu	Thr	Pro	Lys	Glu	Lys	Ser	Ala	Val	Thr	Ala	Leu	Thp	Gly	Lys	Val	HbC البروتين

CAT	CTG	ACT	CCT	GAG	GAG	AAG	TCT	GCC	GTT	ACT	GCC	CTG	TAG	GGC	AAG	GTG	Tha ₂ الحليل الطافر
His	Leu	Thr	Pro	Glu	Glu	Lys	Ser	Ala	Val	Thr	Ala	Leu					Tha ₂ البروتين

- A

CAC	CTG	ACT	CCT	GGG	AGA	AGT	CTG	CCG	TTA	CTG	CCC	TGT	GGG	GCA	AGG	TGA	Tha ₃ الحليل الطافر
His	Leu	Thr	Pro	Glu	Arg	Ser	Leu	Pro	Leu	Leu	Pro	Cys	Gly	Ala	Arg		Tha ₃ البروتين

+ C

CAC	CTG	ACT	CCT	GAG	GAG	AAG	CTC	TGC	CGT	TAC	TGC	CCT	GTG	GGG	CAA	GGT	Tha ₄ الحليل الطافر
His	Leu	Thr	Pro	Glu	Glu	Lys	Lru	Cys	Arg	Tyr	Cys	Pro	Val	Gly	Gln	Gly	Tha ₄ البروتين

β – globuline

(1

: (2

Silencieuse		(T C)	Hba ₁
Faux sens		T A : 14	HbS
Faux sens		A G : 13	HbC
Non sens		A G : 41	Tha ₂
Frame – shift	:	(A) 14	Tha ₃
Frame – shift		(C) 22	Tha ₄

.8 1

الوثيقة 1 : تأثير الطفرات في المحتوى الجيني للسكانة.

يعطي الجدول أسفله نسبة الطفرات المقاسة بالنسبة لمورثة معينة عند أربعة متعضيات مختلفة. ماذا تلاحظ؟

يعطي الرسم أمامه نموذج تفسيري لتأثير الطفرات على المحتوى الجيني للسكانة. أتمم هذا الشكل ثم استنتج.

المتعضي	نسبة الطفرة في الجيل
حماة العاتية	$2.5 \cdot 10^{-9}$
بكتيريا Escherichia Coli	$2 \cdot 10^{-8}$
الذرة	$2.9 \cdot 10^{-4}$
ذبابة الخل	$2.6 \cdot 10^{-5}$

ظهور الحليل a بواسطة طفرة

f(A) = p =
f(a) = q =

f(A) = p =
f(a) = q =

a A
(A a a A) .A a

.La sélection naturelle

8 2

الوثيقة 2 : بعض مظاهر الانتقاء الطبيعي

استخرج من خلال شكلي هذه الوثيقة أبرز العوامل المتدخل في الانتقاء

ب - اختيار الشريك الجنسي يتم بناء على مجموعة من الخصائص التي ترتبط بالنمط الوراثي للفرد .
(استعراض زاهي مميز للريش عند ذكر الطاووس)

أ - ليس لمختلف الكائنات المؤهلات نفسها على البقاء قيد الحياة

Hardy – weinberg

: 1

()

الوثيقة 3 : تغير تردد أرفية السندر حسب اللون

أرفية السندر *Biston betularia* فراشة ليلية تستريح في النهار على أغصان السندر. في إنجلترا وإلى منتصف القرن التاسع عشر، كانت الغالبية الكبرى لهذه الفراشات ذات لون فاتح. لكن بعد ذلك أصبحت الفراشات ذات اللون الداكن أكثر ترددا قرب المناطق الصناعية، بينما ظلت الفراشات ذات اللون الفاتح أكثر انتشارا في الأرياف.

في سنة 1955 قام الباحث Kettlewell بإيسام مجموعة من فراشات الأرفية السوداء والبيضاء وأطلقها في منطقتين مختلفتين: منطقة برمنغام *Birmingham* التي تحتوي على أشجار ذات أغصان داكنة بفعل التلوث (الميلانيزم الصناعي *Mélanisme industrielle*)، ومنطقة دورسي *Dorset* التي تحتوي على أشجار غير ملوثة. بعد ذلك عمل على اصطيادها من جديد مع حساب نسب ترددها. يلخص الجدول أسفله نتائج هذه الدراسة:

(1) ماذا تلاحظ فيما يخص توزيع شكلي هذه الفراشة ؟

(2) أوجد تفسيراً لتردد الفراشتين في كل من المنطقتين المدروستين إذا علمت أن هذه الفراشات تستهلك من طرف بعض الطيور.

في برمنغام		في دورسي		عدد الفراشات الموسومة والمحرة
فاتحة	داكنة	فاتحة	داكنة	
64	154	496	474	عدد الفراشات الموسومة المصطادة
16	82	62	30	نسبة الفراشات الموسومة المصطادة
%	%	%	%	
25	53.2	12.5	6.3	


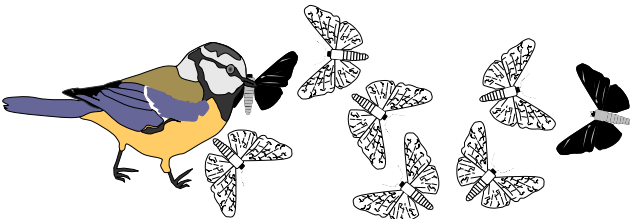


(1)

(2)

9 1

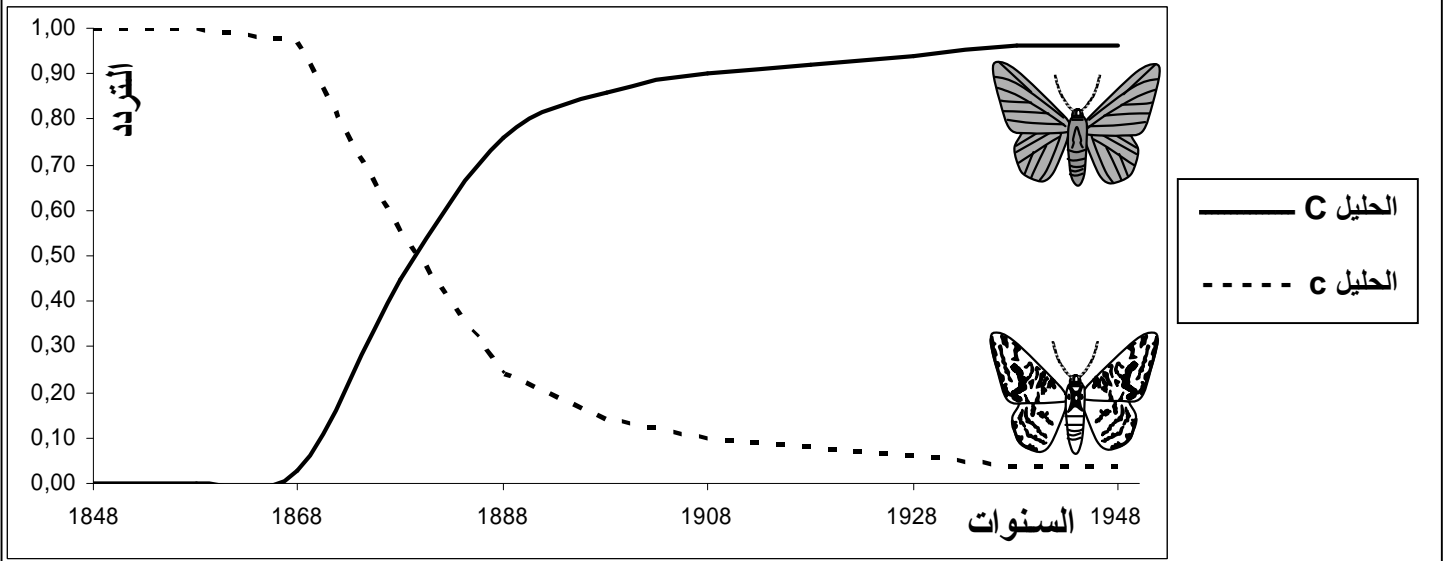
الوثيقة 1



9 2

الوثيقة 2 : تأثير الانتقاء على تردد الحليلات عند أرفية السندر

يتحكم في لون فراشة الأرفية حليلين : المظهر الخارجي الداكن مرموز بواسطة الحليل الساند C. والمظهر الخارجي الفاتح مرموز بواسطة الحليل المتحي c .
يعطي المبيان أسفله تردد حليلي أرفية السندر في المنطقة الصناعية لمانشستر Manchester خلال 100 سنة.
حلل المبيان واستنتج تأثير الانتقاء الطبيعي على تردد الحليلات في هذه الساكنة.



C C 1948
1 (p = 1).

9 3

الوثيقة 3 : القيمة الانتقائية
القيمة الانتقائية (Valeur sélective) تعبر عن قدرة فرد معين على نقل حليلاته إلى الجيل الموالي. ونميز بين:

- القيمة الانتقائية المطلقة لنمط وراثي معين : هي عدد الأفراد الذين ينجبهم في المعدل كل فرد حامل لهذا النمط الوراثي، والقادرين على العيش وعلى نقل حليلاتهم إلى الجيل الموالي. ويمكن التعبير عنها بالصيغة أمامه :

$$\frac{\text{نسبة النمط الوراثي عند الجيل } G_1}{\text{نسبة النمط الوراثي عند الجيل } G_0} = \text{القيمة الانتقائية المطلقة}$$

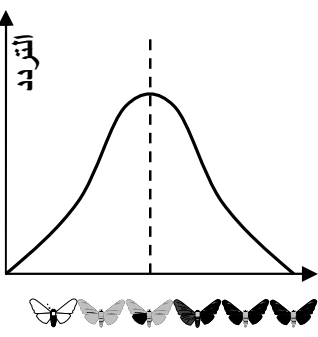
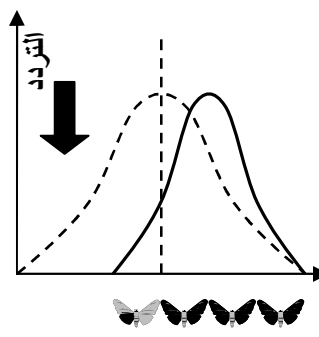
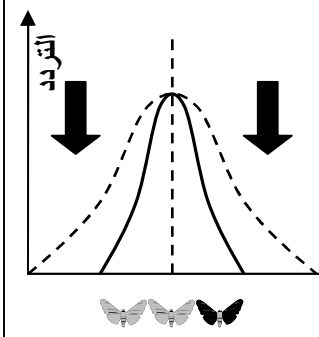
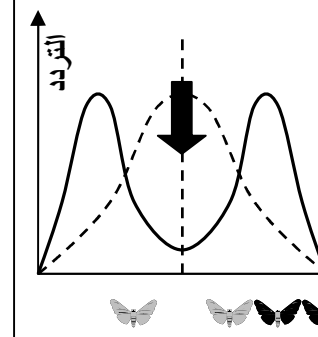
- القيمة الانتقائية النسبية: تعطي القيمة 1 للنمط الوراثي ذو أعلى قيمة انتقائية مطلقة. أما بالنسبة للأنماط الوراثية الأخرى، فتساوي القيمة الانتقائية المطلقة للنمط الوراثي المعني مقسومة على القيمة الانتقائية المطلقة للنمط الوراثي الأكثر ارتفاعا.

في منطقة صناعية تم إحصاء عدد كل من الفراشات الفاتحة والقاتمة في فترتين متباعدتين فجاءت النتائج على الشكل التالي :

القيمة الانتقائية النسبية	القيمة الانتقائية المطلقة	نسبة الفراشات القادرة على العيش والتوالد	عدد الفراشات المحصاة في نهاية الدراسة	عدد الفراشات المحصاة في بداية الدراسة	
			16	64	الفراشات الفاتحة
			82	154	الفراشات الداكنة

باعتدالك على التعاريف المدرجة في الوثيقة أعلاه، أحسب القيم الانتقائية لكل من الفراشة الفاتحة والداكنة في هذه المنطقة الصناعية، واملأ الجدول، ثم علق على النتائج المحصل عليها.

10 1

الوثيقة 1: أنواع الانتقاء الطبيعي		يمثل المنحنى المتواصل توزيع المظاهر داخل ساكنة، والمنحنى المتقطع توزيع الساكنة الأصلية		
				
ساكنة أصلية	الانتقاء الاتجاهي	الانتقاء المثبت	الانتقاء التبايني	
يمثل المنحنى توزيع	
الأنماط داخل الساكنة	

:Dérive génétique

③

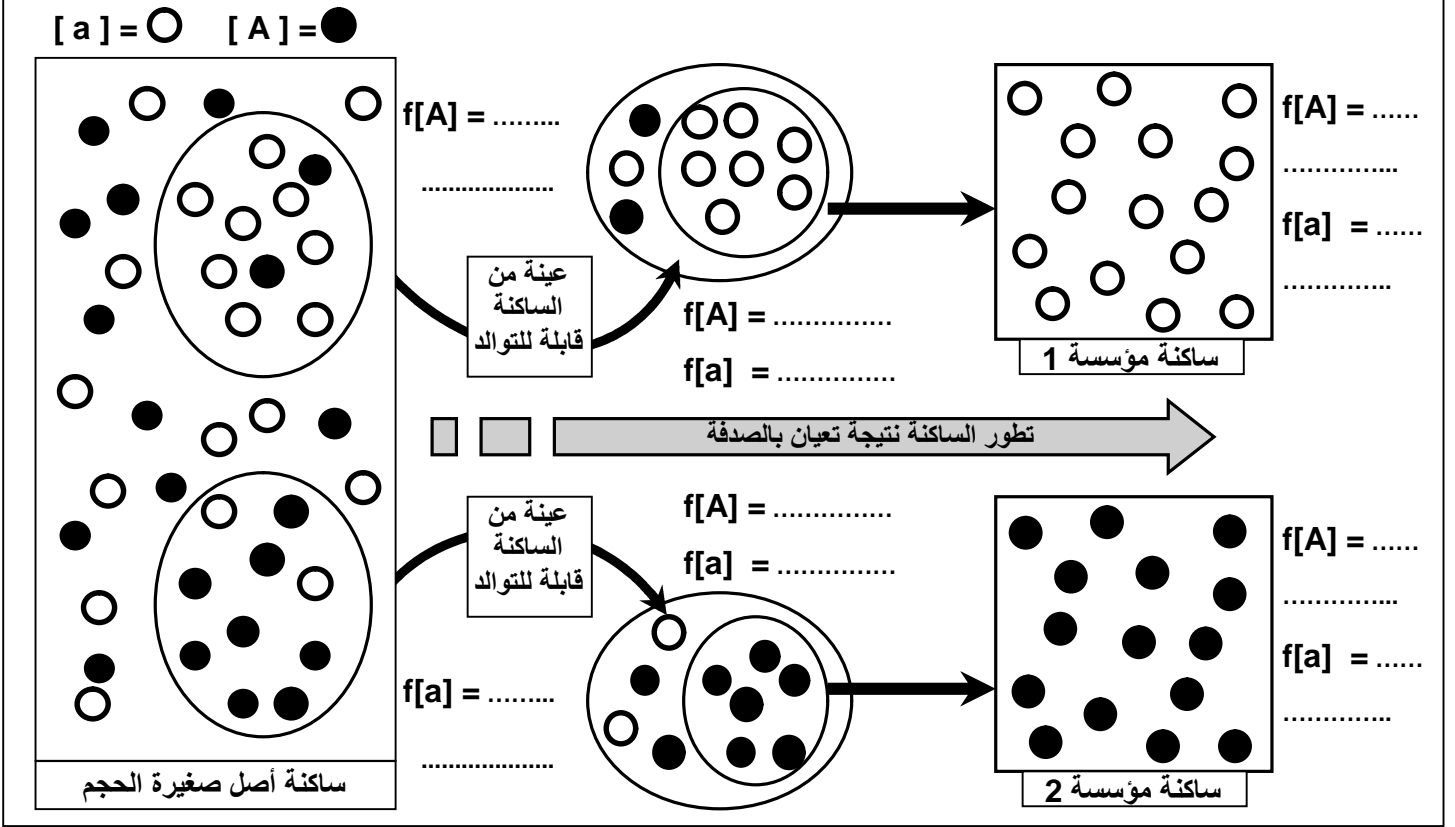
10 2

الوثيقة 2 : مفهوم الانحراف الجيني قام Steinberg بدراسة ترتبط بتردد الفصائل الدموية عند ساكنة Les Huttérites، يتعلق الأمر بتجمع عقاندي « Secte » ، هاجر من سويسرا إلى روسيا ومن ثم خلال سنة 1880 إلى أمريكا الشمالية حيث كون سلسلة من المستعمرات في Docota و Montana وفي أجزاء قريبة من كندا. يمثل الشكل أ من الوثيقة النتائج التي توصل إليها Steinberg .

الشكل أ		
A	O	الفصيلة الدموية
45 %	تقارب 29 %	عند أفراد التجمع العقاندي
30 % - 40	تفوق 40 %	عند أغلب الساكنات الأوربية والأمريكية

4) قارن بين معطيات الجدول. ماذا تستنتج ؟
فسر Steinberg البنية الوراثية لساكنة Les Huttérites بتعرضها لظاهرة تسمى الانحراف الجيني. لتعرف هذه الظاهرة نقترح عليك الرسم التخطيطي أسفله، والذي يمثل نموذجا تفسيريًا لهذه الظاهرة.

- (1) أحسب تردد مختلف المظاهر الخارجية في هذه الساكنات.
 (2) علق على معطيات هذه الوثيقة موضحا فيما تتجلى ظاهرة الانحراف الجيني.
 (3) على ضوء هذه المعطيات فسر أصل البنية الوراثية المسجلة عند ساكنة Les Huttérites .



(1) O A

O

)

Les huttérites

.(

A

(2

()

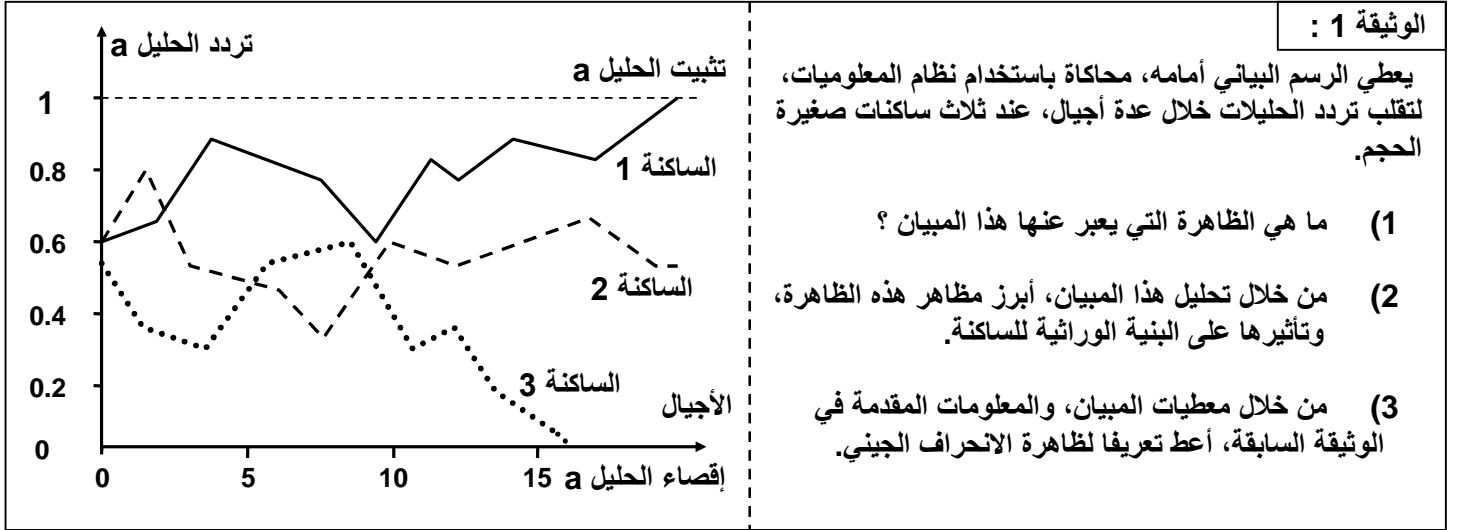
1

(3

Echantillonnage aléatoire

Les huttérites

(4



(1)

(2)

1 0

a

.3 : (q = 0) a ★

.1 : (q = 1) a ★

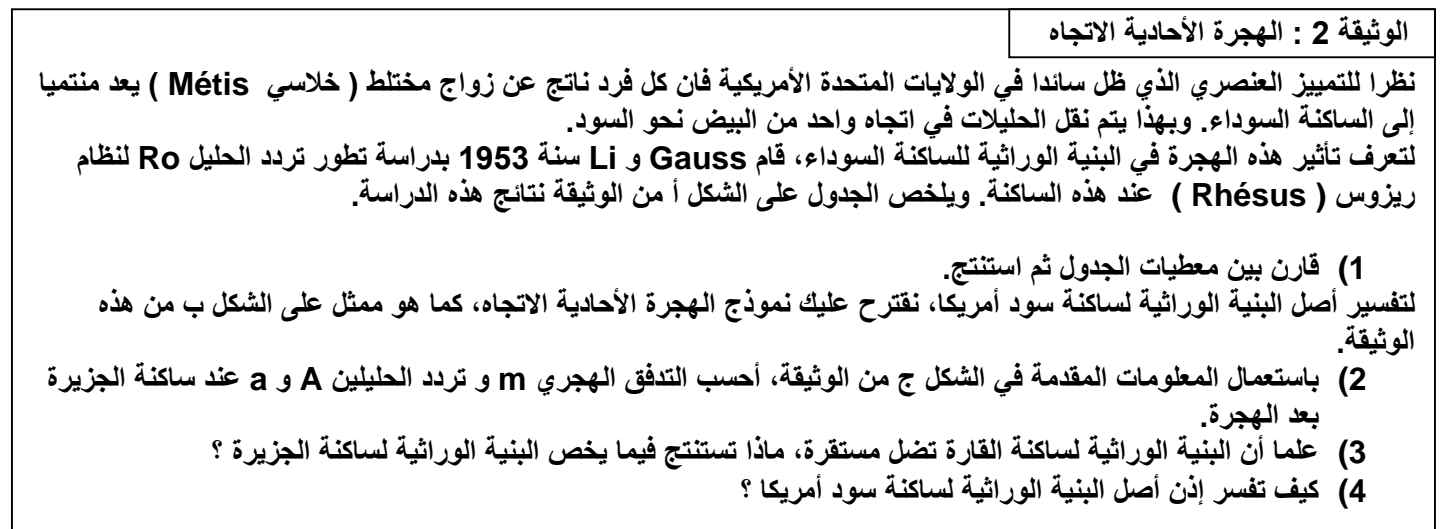
(3)

: La migration

④

11 2

. Unidirectionnelle



الشكل ج

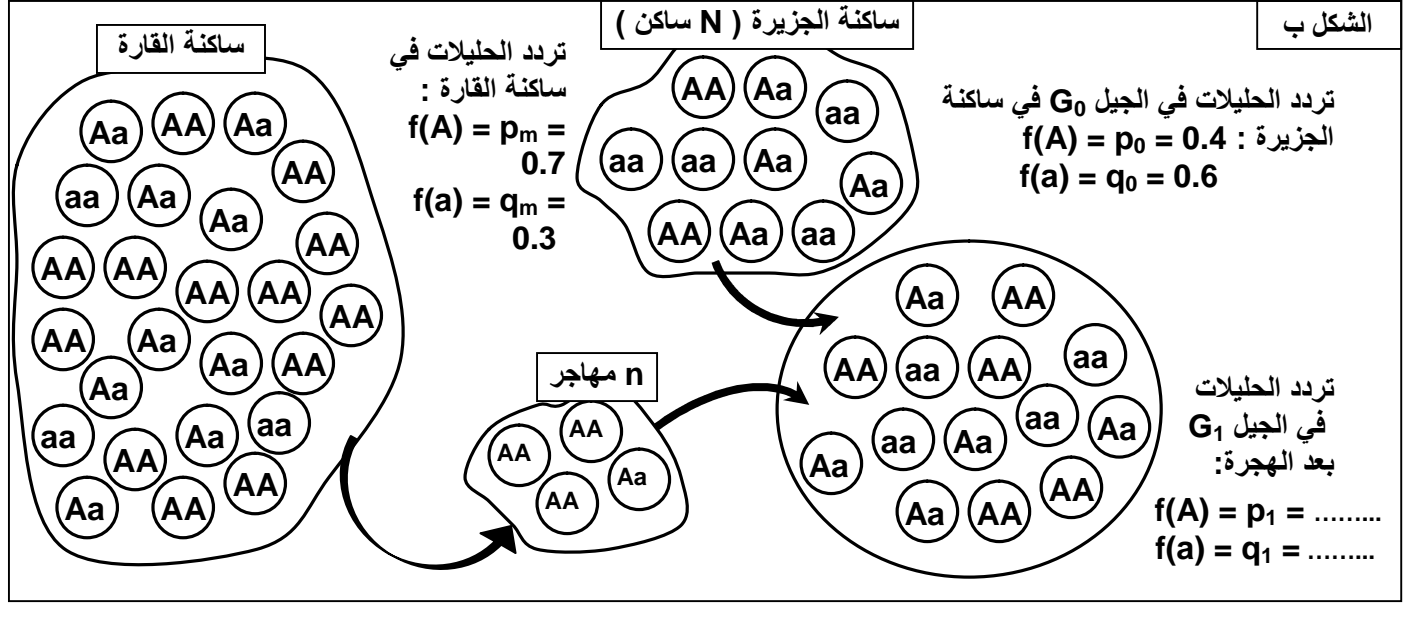
التدفق الهجري m : هو نسبة المهاجرين الذين يتدفقون على الساكنة المستقبلية في كل جيل، ويحسب بتطبيق المعادلة التالية $m = n / (N + n)$
 $N =$ عدد أفراد الساكنة المستقبلية، $n =$ عدد المهاجرين.

تمكن النسبة m من حساب تردد حليل معين بعد الهجرة بتطبيق المعادلة التالية $p_1 = (1-m)p_0 + mp_m$
 p_m يمثل : تردد الحليل السائد في ساكنة القارة. و p_0 تردد الحليل السائد عند ساكنة الجزيرة قبل الهجرة.

الشكل أ

تردد الحليل R_0	الساكنات
0.63	عند الساكنة الأصلية السوداء (الساكنات الإفريقية أصل العبيد)
0.446	الساكنة السوداء سنة 1953 بعد عشرة أجيال من معاهدة العبيد.
0.028	عند الساكنة البيضاء للولايات المتحدة الأمريكية ولساكنة أوروبا التي لم تتغير منذ القرن 18

الشكل ب



$$R_0 \quad (1)$$

$$m = \frac{n}{(N + n)} = \frac{4}{(4 + 10)} = 0.28 \quad :m \quad \star (2)$$

$$f(A) = p_1 \quad A \quad \star$$

$$f(A) = p_1 = (1 - m) p_0 + m p_m$$

$$= (1 - 0.28) \times 0.4 + (0.28 \times 0.7)$$

$$= 0.484$$

$$f(A) = p_1 = 0.48$$

$$f(a) = q_1 :$$

a



$$\begin{aligned} f(a) = q_1 &= (1 - m) q_0 + m q_m \\ &= (1 - 0.28) \times 0.6 + (0.28 \times 0.3) \\ &= 0.516 \end{aligned}$$

$$f(a) = q_1 = 0.52$$

$$p_1 + q_1 = 0.48 + 0.52 = 1$$

A

(3)

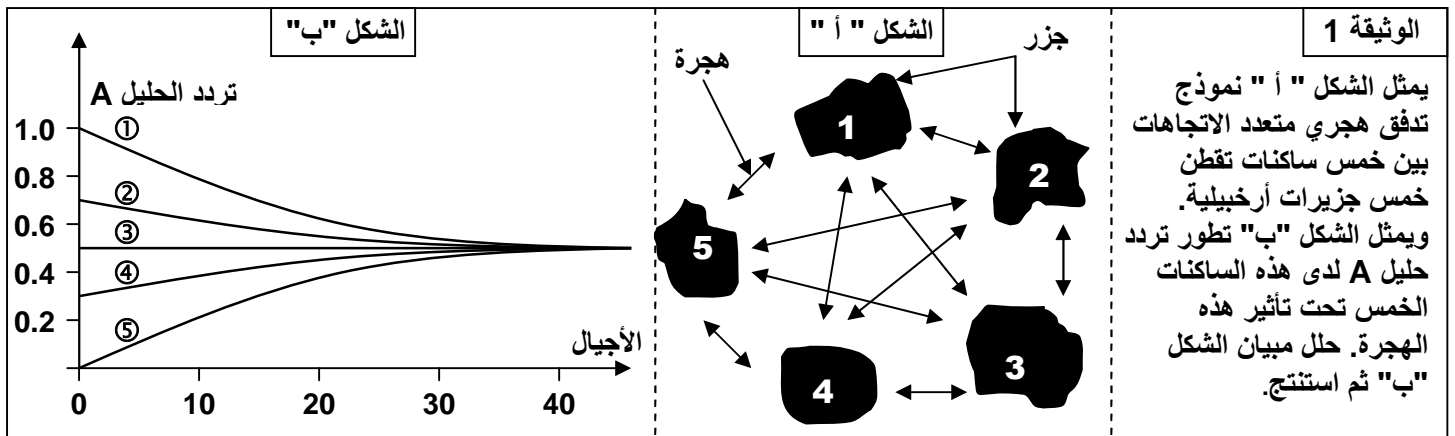
(4)

.12

1

.Multidirectionnelle

-



$$f(A) = 1 \quad \textcircled{1}$$

$$f(A) = 0 \quad \textcircled{5}$$

$$f(A) = 0.5 \quad \textcircled{3}$$

$$f(A) = 0.5$$

L'espèce

- VI

Morphologiques , Comportemental :

- a

: 1

الوثيقة 2

السمنة *La grive* طائر من جنس " *Catharus* " يتضمن عدة أنواع جد متشابهة مرفولوجيا لكنها تختلف فيما بينها بمجموعة من الخصائص (المعايير) المميزة لكل نوع. ويعطي الجدول التالي بعض خصائص أربعة أنواع من هذا الطائر تقطن أمريكا الشمالية. من خلال تحليل هذه المعطيات بين الخصائص المعتمدة لتصنيف هذه الطيور.



<i>Catharus minimus</i>	<i>Catharus ustulatus</i>	<i>Catharus guttatus</i>	<i>Catharus fuscescens</i>	الخصائص
غابات الصنوبر غير كاملة النمو	غابات المخروطيات	أشجار المخروطيات	أراض مشجرة ذات أدغال وافرة	مسكن الزواج
على التربة	غالبا على الأشجار	على التربة	على التربة وعلى الأشجار	أماكن الصيد
على الأشجار	على الأشجار	فوق التربة	فوق التربة	بناء العش
موجود	منعدم	منعدم	منعدم	غناء أثناء الطيران

Ecologique : ()

- b

12 3

Morphologique :

- c


الوثيقة 3 :

يعطي الجدول التالي كمية طرح CO_2 حسب درجة حرارة الوسط من طرف نوعين من الطيور ينتميان إلى جنس *Emberiza* (الصور أسفله). من خلال معطيات هذا الجدول حدد المعيار الأساسي المعتمد في تمييز نوعي طائر



CO2

25	15	05	0	-5	درجة حرارة الوسط (°C)	
05	07	09	10.5	11	<i>Emberiza hortulana</i>	كمية CO_2 المطروح
4.5	06	07	07.5	08	<i>Emberiza citrinella</i>	ب (mg/mg)/h

الوثيقة 4 :		السمندل Salamandre حيوان برماني، أنجزت عليه مجموعة من الدراسات قصد التمييز بين أنواعه. يعطي الجدول أسفله نتائج التحليل الكروماتوغرافي لبروتينين مستخلصين من ثلاثة أنواع من السمندل. مكنت هذه الدراسة من تحديد عدد وتردد الحلقات الرامزة لكل بروتين عند كل نوع. تعبّر القيم بين قوسين عن تردد الحلقات. قارن بين هذه المعطيات واستخلص المعيار الذي اعتمد لتمييز هذه الأنواع من السمندل.	
			

Triton vulgaris	Triton marmoratus	Triton alpestris		
			البروتين	المورثة
(1) a ₆	(1) a ₂	(0.2) a ₃ (0.8) a ₄	الزلال	a : عدد الحلقات 7
(1) b ₁	(1) b ₇	(0.1) b ₁ (0.55) b ₃ (0.35) b ₄	Lactose déshydrogenase	b : عدد الحلقات 7

La fécondité :

- e